



26º ROTEIRO

ESCOLA MUNICIPAL NOSSA SENHORA APARECIDA

PROFESSOR: ANDRESSA FRIGHETTO TURMA: **1 ANO**

COMPONENTE CURRICULARES: LÍNGUA PORTUGUESA, MATEMÁTICA E CIÊNCIAS.

PERÍODO DE REALIZAÇÃO: **03 a 06 de novembro**

Senhores pais e responsáveis

Seu filho deverá realizar todas as atividades. Ele terá o período de 03 a 06 de novembro para concluir essas atividades. Cuidem-se e cuidem de sua família. Em breve tudo estará bem.

MANDAR FOTOS DAS ATIVIDADE FEITAS PARA REGISTRO DA FREQUÊNCIA DOS ALUNOS.

Um abraço,

Professora Andressa

ASSISTIR OS VÍDEOS OU OUVIR OS ÁUDIOS DO PROFESSOR

- Você deve assistir o vídeo explicativo e seguir os exemplos que estão disponíveis em nosso grupo antes de realizar as atividades.

O QUE VAMOS ESTUDAR?

- Categorização gráfica e funcional.
- Números naturais
- Noções de astronomia .

PARA QUE VAMOS ESTUDAR ESSES CONTEÚDOS?

- Compreender a escrita, fonemas, sílabas e palavras.
- Utilizar o antecessor e sucessor .
- Entender as noções de astronomia .

COMO VAMOS ESTUDAR OS CONTEÚDOS?

- Com ajuda da família para leitura das atividades, em um lugar adequado para realizar seus estudos.
- Auxílio dos vídeos no whatsapp.

COMO VAMOS REGISTRAR O QUE APRENDEMOS?

- Registrar na própria folha impressa.
- Colocar sempre a data no livro ex: 03/11/2020
- Livros didáticos: PORTUGUES PÁGINAS 52, 53 E 54 .



**03/11/2020 TERÇA FEIRA
MATEMÁTICA
NUMERAÇÃO ATÉ 50**

FAÇA A LEITURA DOS NÚMEROS.

1	2	3	4	5	6	7	8	9	10
11	12	13	14	15	16	17	18	19	20
21	22	23	24	25	26	27	28	29	30
31	32	33	34	35	36	37	38	39	40
41	42	43	44	45	46	47	48	49	50

AGORA COMPLETE OS NÚMEROS NA AMARELINHA.

Three vertical number lines for a dot marker activity. Each line has 10 segments. The first line starts with 22 at the top and ends with 2 at the bottom. The second line starts with 41 at the top and ends with 20 at the bottom. The third line starts with 48 at the top and ends with 31 at the bottom. Each segment is a rectangle divided into two halves, with the number in the left half and a blank space in the right half.




**05/11/2020 QUINTA FEIRA
LINGUA PORTUGUESA
LIVRO PÁGINAS 52, 53 E 54.**

**06/11/2020 SEXTA FEIRA
MATEMÁTICA**

VAMOS DESCOBRIR QUAL É O DESENHO?

☉ **LIGUE OS PONTOS EM SEQUÊNCIA E DESCUBRA QUAL É O DESENHO.**

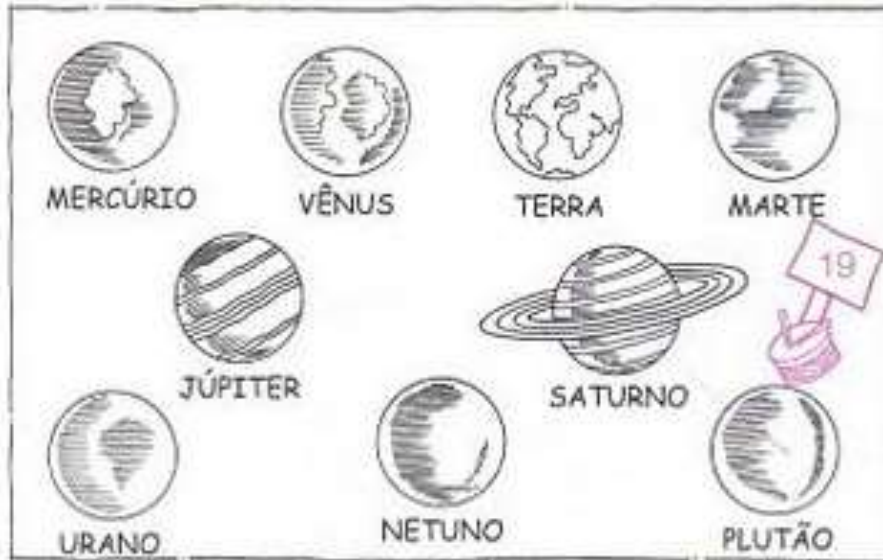


☉ **ESCREVA A SEQUÊNCIA NUMÉRICA ENCONTRADA.**




**06/11/2020 SEXTA FEIRA
CIÊNCIAS
NOÇÕES DE ASTRONOMIA**

O SISTEMA SOLAR É FORMADO PELO SOL E PELOS NOVE PLANETAS QUE GIRAM AO REDOR DELE, ALÉM DE OUTROS ASTROS.



DESENHE O SOL NO CENTRO DO SISTEMA SOLAR E PINTE OS PLANETAS .





26º ROTEIRO DE ATIVIDADES COMPLEMENTARES

ESCOLA MUNICIPAL NOSSA SENHORA APARECIDA

PROFESSORA: ADRIANA MARCUZ

TURMA: 1º, 2º e 3º ANOS

ALUNO (A): _____ TURMA: _____

COMPONENTE CURRICULAR: ARTE

PERÍODO DE REALIZAÇÃO: 03 A 06 DE NOVEMBRO DE 2020

O QUE ESTUDAR?	<ul style="list-style-type: none">• TEATRO: COMPOSIÇÃO DE CENÁRIO (ELEMENTOS DA LINGUAGEM)
PARA QUE ESTUDAR?	<ul style="list-style-type: none">• COMPREENDER OS ELEMENTOS QUE COMPÕE UM TEATRO;• COMPOR UM CENÁRIO COM SEUS ADEREÇOS, DESENVOLVENDO O SENSO CRÍTICO E CRIATIVO.
COMO ESTUDAR?	ORGANIZANDO OS ESTUDOS, ASSISTINDO AOS VÍDEOS EXPLICATIVOS DA PROFESSORA E FAZENDO AS ATIVIDADES.
COMO REGISTRAR?	FAZENDO AS ATIVIDADES PROPOSTAS NOS ROTEIROS, UTILIZANDO OS MATERIAIS ESCOLARES COMUNS: LÁPIS DE ESCREVER E DE COR, GIZ DE CERA, CANETINHAS E BORRACHA.

ARTE



SAIBA: CENÁRIO É UM CONJUNTO DE ELEMENTOS QUE DECORAM O PALCO NA APRESENTAÇÃO DE UMA PEÇA TEATRAL, INCLUSIVE COM A UTILIZAÇÃO DE SONS NATURAIS, DE MÚSICA E DE ILUMINAÇÃO.

❖ **ATIVIDADE: “TEATRO - MONTANDO CENÁRIO”**

- 1) PENSE NA HISTÓRIA DOS TRÊS PORQUINHOS (POIS VOCÊ JÁ TEM OS DEDOCHESES FEITOS EM AULA ANTERIOR), **OU** OUTRA HISTÓRIA QUE VOCÊ QUEIRA.
- 2) AGORA, NO ESPAÇO ABAIXO, DESENHE E PINTE UM LINDO CENÁRIO ONDE SE PASSA A HISTÓRIA ESCOLHIDA. **SEJA CRIATIVO (A), CAPRICHE E ENVIE FOTOS PARA A PROFESSORA DE ARTE!!**

26° ROTEIRO DE ATIVIDADES COMPLEMENTARES DE ESTUDO – COVID 19

ESCOLA MUNICIPAL NOSSA SENHORA APARECIDA

COMPONENTE CURRICULAR: EDUCAÇÃO FÍSICA

PERÍODO DE REALIZAÇÃO: 03 A 06 DE NOVEMBRO DE 2020.

NOME: _____ TURMA: 1ºANO _____

1- O QUE VAMOS APRENDER: ESPORTES – ATLETISMO.

2- PARA QUE VAMOS ESTUDAR ESSES CONTEÚDOS? EXPERIMENTAR E FRUIR PREZANDO PELO TRABALHO E PELO PROTAGONISMO, A PRÁTICA DE JOGOS ESPORTIVOS (EF12EF05).

3- COMO VAMOS ESTUDAR ESSE CONTEÚDO? ATRAVÉS DA PRÁTICA DA MODALIDADE DO ATLETISMO SALTO EM DISTÂNCIA.



ATIVIDADE:

SALTO EM DISTÂNCIA

MATERIAIS: ALGO PARA DEMARCAR DUAS LINHAS NO CHÃO (PODE SER UM TECIDO, UMA CORDA OU UM CADARÇO OU ATÉ UM PAR DE CALÇADOS).

- ESCOLHA UM ESPAÇO EM SUA CASA E DEMARQUE UM ESPAÇO APROXIMADAMENTE DE UM PASSO SEU. COLOQUE O OBJETO QUE VOCÊ IMPROVISOU NO COMEÇO DA SUA PASSADA E O OUTRO NO FINAL DA SUA PASSADA.

TOME UMA DISTÂNCIA, PARA PEGAR IMPULSO. CORRA E SALTE DE UM OBJETO AO OUTRO, SEM ENCOSTAR NELE. CONFORME FOR CONSEGUINDO, VÁ AUMENTANDO A DISTÂNCIA ENTRE ELES.



4- DE QUE FORMA VAMOS REGISTRAR O QUE APRENDEMOS?

PINTE O DESENHO ABAIXO:





26º ROTEIRO DE ATIVIDADES COMPLEMENTARES DE ESTUDO – COVID 19

ESCOLA MUNICIPAL NOSSA SENHORA APARECIDA

PROFESSORA: FABIANA ADALGISA MAZOLA

ALUNO (A): _____

TURMA: 1º ANO

COMPONENTE CURRICULAR: LÍNGUA INGLESA

PERÍODO DE REALIZAÇÃO: 03 A 06 DE NOVEMBRO DE 2020.

ÁUDIO/VÍDEO EXPLICATIVO DA PROFESSORA:

OUÇA O ÁUDIO/VÍDEO DA PROFESSORA E ASSISTA O VÍDEO PARA ENTENDER COMO REALIZAR A ATIVIDADE.

O QUE VOCÊ VAI ESTUDAR?

RETOMADA DO REPERTÓRIO LEXICAL RELACIONADO AOS NÚMEROS DE 0 A 10- NUMBERS 0 TO 10.

PARA QUE VAMOS ESTUDAR ESSES CONTEÚDOS?

CONHECER E COMPREENDER COM O APOIO DO (A) PROFESSOR (A) O SIGNIFICADO DE PALAVRAS QUE NOMEIAM OS NÚMEROS DE 0 A 10 PARA A AQUISIÇÃO DO PRÓPRIO REPERTÓRIO LEXICAL.

COMO VAMOS ESTUDAR OS CONTEÚDOS?

- SUGESTÃO DE VÍDEO PARA A AULA:

<https://www.youtube.com/watch?v=DR-cfDsHCGA>

- ESCUTE COM A ATENÇÃO O NOME DOS NÚMEROS E DEPOIS REPITA QUANTAS VEZES QUISER.
- COLOQUE A DATA E O SEU NOME NO INÍCIO DA PÁGINA.
- AGORA, CONTE E ESCREVA A QUANTIDADE CORRETA.

COMO VAMOS REGISTRAR O QUE APRENDEMOS?

- PRIMEIRO COLOQUE A DATA, ESCREVA O SEU NOME. DEPOIS LEIA OS NÚMEROS COM O APOIO DA PROFESSORA CONTE E ESCREVA A QUANTIDADE CORRETA.

PARA REALIZAR ESSA ATIVIDADE VOCÊ PRECISARÁ DE ALGUNS MATERIAIS:

- ESTOJO ESCOLAR CONTENDO LÁPIS, LÁPIS DE COR E BORRACHA.



DATE: NOVEMBER/____/2020.

NAME: _____

ZERO 0	ONE 1	TWO 2	THREE 3
FOUR 4	FIVE 5	SIX 6	SEVEN 7
EIGHT 8	NINE 9	TEN 10	NUMBERS (NÚMEROS)

- COUNT AND WRITE. (CONTE E ESCREVA).

